



باسمه تعالی

جمهوری اسلامی ایران

وزارت آموزش و پرورش

اداره کل آموزش و پرورش استان البرز ناحیه ۱ کرج

امتحانات نوبت دوم مجتمع آموزشی سلاله سال تحصیلی ۱۴۰۳-۱۴۰۴



نام و نام خانوادگی:	آزمون درس : جغرافیا ۱	نمره به عدد:
نام دبیر: خانم براتی	تاریخ آزمون : ۱۴۰۴/۰۳/	نمره به حروف:
کلاس: دهم ریاضی	مدت آزمون : ۶۰ دقیقه	تعداد صفحات: ۴
شماره صندلی:		

سال سرمایه‌گذاری برای تولید

شماره	سوال	بارم
۱	جملات صحیح و غلط را مشخص کنید. (۱) واژه جغرافیا اولین بار توسط اراتوستن ارائه شد. ص <input type="checkbox"/> غ <input type="checkbox"/> (۲) سوال چه موقع ، به بررسی سیر تکوین و تحول پدیده می پردازد. ص <input type="checkbox"/> غ <input type="checkbox"/> (۳) به حالت آبی و زودگذر جو آب و هوا گفته می شود. ص <input type="checkbox"/> غ <input type="checkbox"/> (۴) تنها بندر اقیانوسی ایران شهید رجایی نام دارد. ص <input type="checkbox"/> غ <input type="checkbox"/>	۱
۲	کلمه مناسب را از داخل کمانک انتخاب کنید. (۱) یکی از عوامل موثر بر آب و هوای ایران (موقعیت جغرافیایی - طول جغرافیایی) است. (۲) نام دیگر دریاچه ارومیه (هامون - چیچست) است.	۰/۵
۳	عبارت های زیر را با کلمات مناسب کامل کنید. (۱) زمان دو برابر شدن جمعیت هر کشور را..... نشان می دهد. (۲) شهر اصفهان و..... به دلیل وجود کارخانه متعدد نقش صنعتی دارند .	۱
۴	گزینه مناسب را انتخاب کنید. ۱- یکی از زیرشاخه های فنون جغرافیایی است. الف) هندسه <input type="checkbox"/> ب) اقتصاد <input type="checkbox"/> ج) تاریخ <input type="checkbox"/> د) زمین شناسی <input type="checkbox"/> ۲- یکی از مراحل حساس پژوهش است. الف) پردازش <input type="checkbox"/> ب) جمع آوری اطلاعات <input type="checkbox"/> ج) فرضیه سازی <input type="checkbox"/> د) نتیجه گیری <input type="checkbox"/>	۰/۵
۵	به سوالات زیر پاسخ کوتاه دهید. (۱) یک مورد از ابزارهای گردآوری اطلاعات میدانی در تحقیقات جغرافیایی را نام ببرید. (۲) مهم ترین کمربندهای خشک و بیابانی کره زمین در اثر چه عاملی ایجاد شدند؟ (۳) یک نوع از کانون آبگیر در ایران را نام ببرید. ادامه سوالات صفحه دوم	۲/۵

	<p>(۴) علت مهاجرت آریایی ها از شمال خزر به سمت جنوب این دریاچه، چه بود؟</p> <p>(۵) یک عامل از دست رفتن شهر بیشاپور را بنویسید.</p>							
۱	<p style="text-align: right;">  معما </p> <p>(۱) یک پهنه آبی هستیم که ۹۰ درصد خاویار جهان را تامین می کنیم نام من را بنویسید.</p> <p>(۲) مهم ترین سامانه بارشی در ایران هستیم که از غرب و شمال غرب ایران نفوذ می کند و منشا من رطوبت دریای مدیترانه است نام من چیست؟</p>	۶						
۱/۵	<p>در ارتباط با ناهمواری های ایران به سوالات زیر پاسخ دهید.</p> <p>(۱) یک نام قله آتشفشانی مهم البرز چیست؟</p> <p>(۲) زیباترین و فعال ترین پدیده رشته کوه زاگرس چیست؟</p> <p>(۳) نام دیگر ناهمواری های مریخی را بنویسید.</p>	۷						
۲	<p>اصطلاحات زیر را تعریف کنید .</p> <p>(۱) ویس</p> <p>(۲) شهر خطی</p>	۸						
۱	<p>جدول زیر را با توجه به عوامل اثرگذار بر پراکندگی جمعیت کامل کنید.</p> <table border="1" data-bbox="172 1383 1385 1556"> <tr> <td>عوامل انسانی</td> <td>عوامل طبیعی</td> </tr> <tr> <td></td> <td>خاک</td> </tr> <tr> <td>سرمایه و فناوری</td> <td></td> </tr> </table>	عوامل انسانی	عوامل طبیعی		خاک	سرمایه و فناوری		۹
عوامل انسانی	عوامل طبیعی							
	خاک							
سرمایه و فناوری								
۱/۵	<p>در ارتباط با خلیج فارس به سوالات زیر پاسخ دهید.</p> <p>(۱) دو مورد از مهم ترین رودهایی که به آن می ریزند را بنویسید.</p> <p>(۲) بزرگترین جزیره آن چه نام دارد؟</p> <p style="text-align: center;">ادامه سوالات صفحه سوم</p>	۱۰						



باسمه تعالی

جمهوری اسلامی ایران

وزارت آموزش و پرورش

اداره کل آموزش و پرورش استان البرز ناحیه ۱ کرج

امتحانات نوبت دوم مجتمع آموزشی سلاله سال تحصیلی ۱۴۰۳-۱۴۰۴



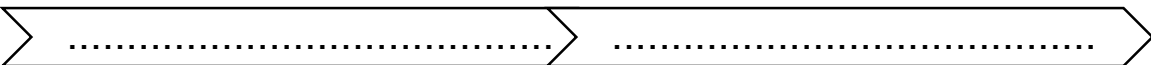
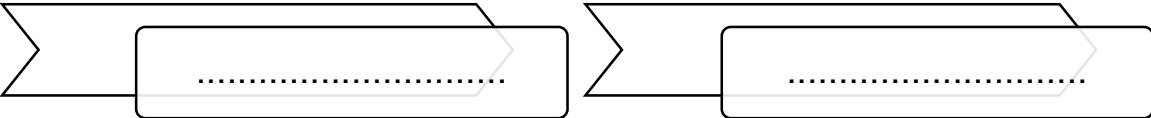

نام و نام خانوادگی:	آزمون درس : جغرافیا ۱	نمره به عدد:
نام دبیر: خانم براتی	تاریخ آزمون : ۱۴۰۴/۰۳/	نمره به حروف:
کلاس: دهم ریاضی	مدت آزمون : ۶۰ دقیقه	تعداد صفحات: ۴
شماره صندلی:		

سال سرمایه‌گذاری برای تولید

۲	<p>در ارتباط با توان های اقتصادی ایران به سوالات زیر پاسخ دهید.</p> <p>(۱) یکی از مهم ترین محصولات صادراتی ایران را نام ببرید.</p> <p>(۲) این صنایع وظیفه طراحی و تولید تجهیزات نظامی را برای نیروهای مسلح بر عهده دارد نام آن را بنویسید.</p> <p>(۳) WTO مخفف چه سازمانی است؟</p> <p>(۴) یک جاذبه گردشگری در ایران با مثال بنویسید.</p>	۱۱
---	--	----

۰/۵	<p>در شکل زیر که معرف زیرحوضه های ایران است، نام حوضه ابریز مربوطه که با علامت سوال مشخص شده، را بنویسید.</p> <p>.....</p>  <p>ادامه سوالات صفحه چهارم</p>	۱۲
-----	--	----

سوالات استان شناسی البرز

۵	<p>۱۳ (۱) دلایل اهمیت استان البرز را بنویسید. (۲مورد) (۱)</p>  <p>(۲) به چه دلیل البرز توان بالایی در جذب گردشگران را دارد؟ (۱)</p>  <p>(۳) توانمندی های استان البرز در بخش صنعت کدامند؟ (۲مورد) (۱)</p> <p>(۴) اصلی ترین مناطق طبیعت گردی استان البرز کدامند؟ (۲مورد) (۱)</p>  <p>(۵) فعالیت های عمرانی استان البرز به چند بخش تقسیم می شود؟ (۱)</p>	
۲۰	موفق باشید	



باسمه تعالی

جمهوری اسلامی ایران

وزارت آموزش و پرورش

اداره کل آموزش و پرورش استان البرز ناحیه ۱ کرج

امتحانات نوبت دوم مجتمع آموزشی سلاله سال تحصیلی ۱۴۰۳-۱۴۰۴



نام و نام خانوادگی:	آزمون درس : جغرافیا ۱	نمره به عدد:
نام دبیر: خانم براتی	تاریخ آزمون : ۱۴۰۴/۰۳/	نمره به حروف:
کلاس: دهم ریاضی	مدت آزمون : ۶۰ دقیقه	تعداد صفحات: ۴
شماره صندلی:		

سال سرمایه‌گذاری برای تولید

شماره	سوال	بارم
۱	جملات صحیح و غلط را مشخص کنید. (۱) ص (۲) غ (۳) غ (۴) غ	۱
۲	کلمه مناسب را از داخل کمانک انتخاب کنید. (۵) موقعیت جغرافیایی (۶) چیچست	۰/۵
۳	عبارت های زیر را با کلمات مناسب کامل کنید. (۱) قانون ۷۰ (۲) اراک	۱
۴	گزینه مناسب را انتخاب کنید. ۱- هندسه ۲- فرضیه سازی □	۰/۵
۵	به سوالات زیر پاسخ کوتاه دهید. (۱) پرسش نامه یا مصاحبه یا مشاهده (۲) پرفشار جنب حاره ای (۳) دائمی یا فصلی یا موقت (۴) سرما و نبود چراگاه (۵) جنگ یا بیماری	۲/۵
۶	معما	۱

	(۱) خزر (۲) مرطوب غربی							
۱/۵	در ارتباط با ناهمواری های ایران به سوالات زیر پاسخ دهید. (۱) دماوند (۲) گنبد نمکی (۳) کوه های مینیاتوری	۷						
۲	اصطلاحات زیر را تعریف کنید . (۱) پس از ورود آریاییان به فلات ایران و در نخستین مرحله زندگی اجتماعی یک آبادی کوچک را ویس می نامیدند. (۲) شهری که حول محور ارتباطی و یا در امتداد رود دریا و دریاچه به صورت خطی شکل گرفته است.	۸						
۱	جدول زیر را با توجه به عوامل اثرگذار بر پراکندگی جمعیت کامل کنید. <table border="1" data-bbox="170 945 1388 1081"> <tr> <td>عوامل انسانی</td> <td>عوامل طبیعی</td> </tr> <tr> <td>حمل و نقل - سرمایه گذاری دولت ها - پیشینه تاریخی (امورد)</td> <td>خاک</td> </tr> <tr> <td>سرمایه و فناوری</td> <td>ناهمواری ها - رود - معادن - پوشش گیاهی (امورد)</td> </tr> </table>	عوامل انسانی	عوامل طبیعی	حمل و نقل - سرمایه گذاری دولت ها - پیشینه تاریخی (امورد)	خاک	سرمایه و فناوری	ناهمواری ها - رود - معادن - پوشش گیاهی (امورد)	۹
عوامل انسانی	عوامل طبیعی							
حمل و نقل - سرمایه گذاری دولت ها - پیشینه تاریخی (امورد)	خاک							
سرمایه و فناوری	ناهمواری ها - رود - معادن - پوشش گیاهی (امورد)							
۱/۵	در ارتباط با خلیج فارس به سوالات زیر پاسخ دهید. (۱) کارون یا کرخه یا دالکی یا مند (۲) قشم	۱۰						
۲	در ارتباط با توان های اقتصادی ایران به سوالات زیر پاسخ دهید. (۱) پسته یا انار یا خرما (۲) دفاعی (۳) سازمان جهانی گردشگری (۴) طبق نظر دانش آموز	۱۱						
۰/۵	در شکل زیر که معرف زیرحوضه های ایران است، نام حوضه ابریز مربوطه که با علامت سوال مشخص شده، را بنویسید.	۱۲						



باسمه تعالی

جمهوری اسلامی ایران

وزارت آموزش و پرورش

اداره کل آموزش و پرورش استان البرز ناحیه ۱ کرج

امتحانات نوبت دوم مجتمع آموزشی سلاله سال تحصیلی ۱۴۰۳-۱۴۰۴



نام و نام خانوادگی:	آزمون درس : جغرافیا ۱	نمره به عدد:
نام دبیر: خانم براتی	تاریخ آزمون : ۱۴۰۴/۰۳/	نمره به حروف:
کلاس: دهم ریاضی	مدت آزمون : ۶۰ دقیقه	تعداد صفحات: ۴
شماره صندلی:		

سال سرمایه‌گذاری برای تولید

	حوضه آبریز مرکزی ایران	
سوالات استان شناسی البرز		
۵	<p>(۱) نزدیک ترین استان به مرکز سیاسی و اقتصادی کشور است./ دارای موقعیت ممتاز ارتباطی قرار گرفتن در مسیر اصلی حمل و نقل کشور است./انواع فعالیت‌های اقتصادی در آن متمرکز است./این استان در دامنه جنوبی البرز قرار دارد و از منابع آب و دشتهای حاصلخیز برخوردار است.(۲مورد)(۱)</p> <p>(۲) راه های ارتباطی جاذبه های طبیعی فراوان موقعیت جغرافیایی - دسترسی به راه های نزدیکی به مراکز اصلی(۲مورد/۱نمره)</p> <p>(۳) دسترسی به شبکه ارتباطی مناسب/تمرکز جمعیت و ثروت/مواد اولیه کشاورزی و زراعی جهت توسعه صنایع تبدیلی(۲مورد)(۱)</p> <p>(۴) ارتفاعات شمالی کرج - سا و جبالغ - طالقان(۲مورد) (۱)</p> <p>(۵) عمران شهری و روستایی - راه و ترابری و حمل نقل(۱)</p>	۱۳
۲۰	موفق باشید	